



Projeto de Complemento do Currículo
Plano Regional de Educação Rodoviária (PRER) 2016/2017

Projeto E - Taça Escolar de Educação Rodoviária – Fase Concelhia - 10ª Edição

Categoria A – 1º Ciclo do Ensino Básico



QUESTIONÁRIO (escrito)

0082

A PREENCHER PELO PARTICIPANTE (EM MAIÚSCULAS)



Estabelecimento de Ensino: _____

Nome do Aluno: _____

Ano de escolaridade: _____º Turma: _____ N.º _____

Data de nascimento: ____/____/____ Data de realização do questionário: 201__/__/__

ATENÇÃO: Para cada afirmação/pergunta, apenas existe uma opção de resposta verdadeira. Faz uma circunferência (O) em torno dessa mesma resposta.

Número das questões	Questões	Penalizações parciais (20 pontos por cada resposta errada)
1	No fim de uma viagem, os passageiros de automóveis devem libertar-se imediatamente do cinto de segurança, mesmo quando os veículos ainda estão em andamento. A – Verdadeiro B – Falso	
2	O peão da imagem está a caminhar no sítio adequado? A - Sim, pois encontra-se numa pista obrigatória para peões e velocípedes B - Não, porque está numa pista destinada apenas a ciclistas	
3	Os bebés, transportados em automóveis, estão mais seguros se forem ao colo de outra pessoa. A – Verdadeiro B – Falso	
4	O ciclista A deve: A – Avançar antes dos veículos que entram na rotunda. B – Avançar depois do automóvel e antes do ciclista B	
5	Dois ciclistas podem circular a par. A – Verdadeiro B- Falso	
Total de Penalizações		



Projeto de Complemento do Currículo
Plano Regional de Educação Rodoviária (PRER) 2016/2017

Projeto E - Taça Escolar de Educação Rodoviária – Fase Concelhia - 10ª Edição

Categoria A – 1º Ciclo do Ensino Básico



QUESTIONÁRIO (escrito)

0319

A PREENCHER PELO PARTICIPANTE (EM MAIÚSCULAS)







Estabelecimento de Ensino: _____

Nome do Aluno: _____

Ano de escolaridade: _____º Turma: _____ N.º _____

Data de nascimento: ____/____/____ Data de realização do questionário: 201__/__/__

ATENÇÃO: Para cada afirmação/pergunta, apenas existe uma opção de resposta verdadeira. Faz uma circunferência (O) em torno dessa mesma resposta.

Número das questões	Questões	Penalizações parciais (20 pontos por cada resposta errada)
1	Os bebés, transportados em automóveis, estão mais seguros se forem ao colo de outra pessoa. A – Verdadeiro B – Falso	
2	Os ciclistas não podem circular aos ziguezagues entre as filas de trânsito para chegar mais rápido. A – Verdadeiro B – Falso	
3	5 – Se circulars de bicicleta à noite, para veres e seres visto pelos outros utentes, deves ligar a luz da frente que é vermelha e a de trás que é branca. A – Verdadeiro B – Falso	
4	Os ciclistas podem falar ao telemóvel enquanto conduzem desde que uma das mãos se mantenha no guiador. A – Verdadeiro B – Falso	
5	Todos os sinais que se seguem são de cedência de passagem?       A – Verdadeiro B – Falso	
Total de Penalizações		



Projeto de Complemento do Currículo
Plano Regional de Educação Rodoviária (PRER) 2016/2017

Projeto E - Taça Escolar de Educação Rodoviária – Fase Concelhia - 10ª Edição

Categoria A – 1º Ciclo do Ensino Básico



QUESTIONÁRIO (escrito)

0342

A PREENCHER PELO PARTICIPANTE (EM MAIÚSCULAS)







Estabelecimento de Ensino: _____

Nome do Aluno: _____

Ano de escolaridade: _____º Turma: _____ N.º _____

Data de nascimento: ____/____/____ Data de realização do questionário: 201__/__/__

ATENÇÃO: Para cada afirmação/pergunta, apenas existe uma opção de resposta verdadeira. Faz uma circunferência (O) em torno dessa mesma resposta.

Número das questões	Questões	Penalizações parciais (20 pontos por cada resposta errada)
1	As crianças com menos de 12 anos de idade transportadas em automóveis equipados com cintos de segurança, desde que tenham altura inferior a 135 cm, devem ser seguras por sistema de retenção homologado e adaptado ao seu tamanho e peso. A – Verdadeiro B – Falso	
2	A capacidade de condução pode ser prejudicada pela ingestão de pequenas quantidades de álcool? A – Verdadeiro B – Falso	
3	Se circulars de bicicleta à noite, para veres e seres visto pelos outros utentes, deves ligar a luz da frente que é vermelha e a de trás que é branca. A – Verdadeiro B – Falso	
4	Todos os sinais que se seguem são de cedência de passagem?       A – Verdadeiro B – Falso	
5	Dois ciclistas podem circular a par. A – Verdadeiro B- Falso	
Total de Penalizações		



Projeto de Complemento do Currículo
Plano Regional de Educação Rodoviária (PRER) 2016/2017

Projeto E - Taça Escolar de Educação Rodoviária – Fase Concelhia - 10ª Edição

Categoria A – 1º Ciclo do Ensino Básico



QUESTIONÁRIO (escrito)

0819

A PREENCHER PELO PARTICIPANTE (EM MAIÚSCULAS)


Estabelecimento de Ensino: _____

Nome do Aluno: _____

Ano de escolaridade: _____º Turma: _____ N.º _____

Data de nascimento: ____/____/____ Data de realização do questionário: 201_/_/___

ATENÇÃO: Para cada afirmação/pergunta, apenas existe uma opção de resposta verdadeira. Faz uma circunferência (O) em torno dessa mesma resposta.

Número das questões	Questões	Penalizações parciais (20 pontos por cada resposta errada)
1	Os bebés, transportados em automóveis, estão mais seguros se forem ao colo de outra pessoa. A – Verdadeiro B – Falso	
2	Muitas crianças usam transporte coletivo de passageiros, público ou escolar, para diariamente se deslocarem para a escola. Em que situação consideras que correm mais riscos? A - O André aguarda que o transporte arranque antes de atravessar a estrada e só depois de olhar à esquerda, à direita e novamente à esquerda, sem correr e apenas quando não há veículos a circular é que atravessa a rua. B - O Pedro atravessa a estrada ainda com o autocarro na paragem e muitas vezes detém-se no eixo da via para deixar passar veículos em ultrapassagem ou que circulam em sentido contrário.	
3	Em Portugal, as crianças até 1,35 metros e menos de 12 anos de idade têm de sentar-se num sistema de retenção adequado ao seu tamanho e peso. A – Verdadeiro B – Falso	
4	O ciclista A deve: A – Avançar depois dos veículos que circulam na rotunda. B – Avançar depois do automóvel e antes do ciclista B.	
5	Dois ciclistas não podem circular a par. A – Verdadeiro B- Falso	
Total de Penalizações		



Projeto de Complemento do Currículo
Plano Regional de Educação Rodoviária (PRER) 2016/2017

Projeto E - Taça Escolar de Educação Rodoviária – Fase Concelhia - 10ª Edição

Categoria A – 1º Ciclo do Ensino Básico



QUESTIONÁRIO (escrito)

1007

A PREENCHER PELO PARTICIPANTE (EM MAIÚSCULAS)


Estabelecimento de Ensino: _____

Nome do Aluno: _____

Ano de escolaridade: _____º Turma: _____ N.º _____

Data de nascimento: ____/____/____ Data de realização do questionário: 201__/__/__

ATENÇÃO: Para cada afirmação/pergunta, apenas existe uma opção de resposta verdadeira. Faz uma circunferência (O) em torno dessa mesma resposta.

Número das questões	Questões	Penalizações parciais (20 pontos por cada resposta errada)
1	É proibido o transporte de pessoas em número que exceda a lotação do veículo ou de modo a comprometer a sua segurança ou a segurança da condução. A – Verdadeiro B – Falso	
2	Os peões devem transitar pela direita dos locais que lhes são destinados, ainda que transitem nas vias públicas em que esteja proibido o trânsito de veículos. A – Verdadeiro B – Falso	
3	O ciclista A deve: A – Passar primeiro que os outros veículos. B – Deixar passar primeiro o automóvel e avançar antes do ciclista B.	
4	Em Portugal, as crianças até 1,35m e menos de 12 anos de idade têm de sentar-se num sistema de retenção adequado ao seu tamanho e peso. A – Verdadeiro B – Falso	
5	Dois ciclistas não podem circular a par. A – Verdadeiro B - Falso	
Total de Penalizações		



Projeto de Complemento do Currículo
Plano Regional de Educação Rodoviária (PRER) 2016/2017

Projeto E - Taça Escolar de Educação Rodoviária – Fase Concelhia - 10ª Edição

Categoria A – 1º Ciclo do Ensino Básico



QUESTIONÁRIO (escrito)

1099

A PREENCHER PELO PARTICIPANTE (EM MAIÚSCULAS)



Estabelecimento de Ensino: _____

Nome do Aluno: _____

Ano de escolaridade: _____º Turma: _____ N.º _____

Data de nascimento: ____/____/____ Data de realização do questionário: 201__/__/__

ATENÇÃO: Para cada afirmação/pergunta, apenas existe uma opção de resposta verdadeira. Faz uma circunferência (O) em torno dessa mesma resposta.

Número das questões	Questões	Penalizações parciais (20 pontos por cada resposta errada)
1	É proibido entrar, sair ou abrir as portas dos automóveis sem que estes estejam completamente imobilizados. A – Verdadeiro B – Falso	
2	O Miguel pretende brincar no jardim. Achas que se encontra no local mais seguro para atravessar? A - Não, porque está a atravessar numa curva. B - Sim, porque assim está a uma menor distância do jardim.	
3	Um ciclista mesmo que infrinja a lei, nunca pode ser multado por um agente da autoridade, pois só se pode multar condutores de veículos com motor. A – Verdadeiro B – Falso	
4	Que significa o sinal que se segue? A – Pista destinada à circulação de ciclistas B – Proibida a circulação de ciclistas C – Obrigatório levar a bicicleta à mão	
5	Se tiveres 120 cm já não necessitas de usar “cadeirinha”. A - Verdadeiro B - Falso	
Total de Penalizações		



Projeto de Complemento do Currículo
Plano Regional de Educação Rodoviária (PRER) 2016/2017

Projeto E - Taça Escolar de Educação Rodoviária – Fase Concelhia - 10ª Edição

Categoria A – 1º Ciclo do Ensino Básico



QUESTIONÁRIO (escrito)

1272

A PREENCHER PELO PARTICIPANTE (EM MAIÚSCULAS)



Estabelecimento de Ensino: _____

Nome do Aluno: _____

Ano de escolaridade: _____º Turma: _____ N.º _____

Data de nascimento: ____/____/____ Data de realização do questionário: 201_/_/____

ATENÇÃO: Para cada afirmação/pergunta, apenas existe uma opção de resposta verdadeira. Faz uma circunferência (O) em torno dessa mesma resposta.

Número das questões	Questões	Penalizações parciais (20 pontos por cada resposta errada)
1	Os bebés, transportados em automóveis, estão mais seguros se forem ao colo de outra pessoa. A – Verdadeiro B – Falso	
2	Parece-te que o João e o Miguel estão a brincar num local seguro? A - Não. Estão muito perto da faixa de rodagem. B - Sim. Estão a brincar no passeio onde não existe trânsito.	
3	Sempre que circulas de bicicleta e viras de direção à direita, se houver peões a atravessar a rua, deves parar, mesmo que não existam passadeiras para peões. A – Verdadeiro B – Falso	
4	O ciclista A deve: A – Passar primeiro que os outros veículos. B – Deixar passar primeiro o automóvel e avançar antes do ciclista B.	
5	É proibido entrar, sair ou abrir as portas dos automóveis sem que estes estejam completamente imobilizados. A – Verdadeiro B – Falso	
Total de Penalizações		



Projeto de Complemento do Currículo
Plano Regional de Educação Rodoviária (PRER) 2016/2017

Projeto E - Taça Escolar de Educação Rodoviária – Fase Concelhia - 10ª Edição



Categoria A – 1º Ciclo do Ensino Básico

QUESTIONÁRIO (escrito)

1610

A PREENCHER PELO PARTICIPANTE (EM MAIÚSCULAS)



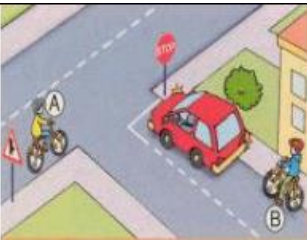
Estabelecimento de Ensino: _____

Nome do Aluno: _____

Ano de escolaridade: _____º Turma: _____ N.º _____

Data de nascimento: ____/____/____ Data de realização do questionário: 201__/__/__

ATENÇÃO: Para cada afirmação/pergunta, apenas existe uma opção de resposta verdadeira. Faz uma circunferência (O) em torno dessa mesma resposta.

Número das questões	Questões	Penalizações parciais (20 pontos por cada resposta errada)
1	<p>Que significa o sinal que se segue?</p> <p>A – Pista destinada à circulação de ciclistas B – Proibida a circulação de ciclistas C – Obrigatório levar a bicicleta à mão</p> 	
2	<p>O Miguel pretende brincar no jardim. Achas que se encontra no local mais seguro para atravessar?</p> <p>A - Não, porque está a atravessar numa curva. B - Sim, porque assim está a uma menor distância do jardim.</p> 	
3	<p>O ciclista A deve:</p> <p>A – Passar primeiro que os outros veículos. B – Deixar passar primeiro o automóvel e avançar antes do ciclista B.</p> 	
4	<p>Quando andas a pé e queres atravessar a rua debes:</p> <p>A – Havendo passadeiras atravessar nelas. B – Não vindo nenhum veículo, atravesso a direito a correr.</p>	
5	<p>Dois ciclistas podem circular a par.</p> <p>A – Verdadeiro B - Falso</p>	
Total de Penalizações		



Projeto de Complemento do Currículo
Plano Regional de Educação Rodoviária (PRER) 2016/2017
Projeto E - Taça Escolar de Educação Rodoviária – Fase Concelhia - 10ª Edição



Categoria A – 1º Ciclo do Ensino Básico

QUESTIONÁRIO (escrito)

1710

A PREENCHER PELO PARTICIPANTE (EM MAIÚSCULAS)








Estabelecimento de Ensino: _____

Nome do Aluno: _____

Ano de escolaridade: _____º Turma: _____ N.º _____

Data de nascimento: ____/____/____ Data de realização do questionário: 201__/__/__

ATENÇÃO: Para cada afirmação/pergunta, apenas existe uma opção de resposta verdadeira. Faz uma circunferência (O) em torno dessa mesma resposta.

Número das questões	Questões	Penalizações parciais (20 pontos por cada resposta errada)
1	<p>Que significa a sinalização que o ciclista está a realizar?</p> <p>A – Vai virar à esquerda. B – Vai abrandar. C – Vai virar à direita.</p> 	
2	<p>É aconselhado o uso do cinto de segurança mas por lei não é obrigatório.</p> <p>A – Verdadeiro B – Falso</p>	
3	<p>Quando andas de bicicleta, a distância que deve separar-te do veículo da frente deve ser suficiente para parares se ele fizer uma travagem ou manobra brusca.</p> <p>A – Verdadeiro B – Falso</p>	
4	<p>Todos os sinais que se seguem são de cedência de passagem?</p>       <p>A – Verdadeiro B – Falso</p>	
5	<p>Dois ciclistas não podem circular a par.</p> <p>A – Verdadeiro B - Falso</p>	
Total de Penalizações		



Projeto de Complemento do Currículo
Plano Regional de Educação Rodoviária (PRER) 2016/2017

Projeto E - Taça Escolar de Educação Rodoviária – Fase Concelhia - 10ª Edição

Categoria A – 1º Ciclo do Ensino Básico



QUESTIONÁRIO (escrito)

1740

A PREENCHER PELO PARTICIPANTE (EM MAIÚSCULAS)



Estabelecimento de Ensino: _____

Nome do Aluno: _____

Ano de escolaridade: _____º Turma: _____ N.º _____

Data de nascimento: ____/____/____ Data de realização do questionário: 201_/_/_

ATENÇÃO: Para cada afirmação/pergunta, apenas existe uma opção de resposta verdadeira. Faz uma circunferência (O) em torno dessa mesma resposta.

Número das questões	Questões	Penalizações parciais (20 pontos por cada resposta errada)
1	É aconselhado o uso do cinto de segurança mas por lei não é obrigatório. A – Verdadeiro B – Falso	
2	O Manuel está a chamar o João. Para ir ter com ele, o que é que o João deve fazer? A - Atravessar a partir do local onde se encontra. B - Andar um pouco mais e atravessar na passagem para peões.	
3	Todos os condutores que saiam de uma zona de abastecimento de combustível, de um prédio, de um parque de estacionamento ou de um caminho particular devem ceder a passagem aos veículos que estão a circular na via em que vão entrar. Portanto, os ciclistas, quando encontrarem veículos a sair destes locais, sabem que são os primeiros a avançar. A – Verdadeiro B – Falso	
4	Na sinalização luminosa, os sinais para os condutores são: A – Tricolores: Vermelho, amarelo e verde. B – Bicolores: Vermelho e verde. C – Tricolores: Vermelho, laranja e azul. D – Bicolores: Vermelho e amarelo.	
5	O que significa o sinal apresentado? A – Obrigatório ceder a passagem B – Proibida a passagem de peões	
Total de Penalizações		



Projeto de Complemento do Currículo

 Plano Regional de Educação Rodoviária (PRER) 2016/2017

Projeto E - Taça Escolar de Educação Rodoviária – Fase Concelhia - 10ª Edição

Categoria A – 1º Ciclo do Ensino Básico



QUESTIONÁRIO (escrito)

1768

A PREENCHER PELO PARTICIPANTE (EM MAIÚSCULAS)



Estabelecimento de Ensino: _____

Nome do Aluno: _____

Ano de escolaridade: _____º Turma: _____ N.º _____

Data de nascimento: ____/____/____ Data de realização do questionário: 201_/_/___

ATENÇÃO: Para cada afirmação/pergunta, apenas existe uma opção de resposta verdadeira. Faz uma circunferência (O) em torno dessa mesma resposta.

Número das questões	Questões	Penalizações parciais (20 pontos por cada resposta errada)
1	No fim de uma viagem, os passageiros de automóveis devem libertar-se imediatamente do cinto de segurança, mesmo quando os veículos ainda estão em andamento. A – Verdadeiro B – Falso	
2	O ciclista A deve: A – Passar primeiro que os outros veículos. B – Deixar passar primeiro o automóvel e avançar antes do ciclista B.	
3	O Manuel está a chamar o João. Para ir ter com ele, o que é que o João deve fazer? A - Atravessar a partir do local onde se encontra B - Andar um pouco mais e atravessar na passagem para peões	
4	Para entrares e saíres do automóvel deves: A – Mesmo com o automóvel em marcha lenta posso sair ou entrar. B – Entrar e sair sempre pelo lado do passeio. C – Colocar-me à retaguarda de um veículo que esteja a fazer uma manobra. D – Nenhuma está correta.	
5	Se tiveres 120 cm já não necessitas de usar “cadeirinha”. A- Verdadeiro B - Falso	
Total de Penalizações		



Projeto de Complemento do Currículo
Plano Regional de Educação Rodoviária (PRER) 2016/2017

Projeto E - Taça Escolar de Educação Rodoviária – Fase Concelhia - 10ª Edição

Categoria A – 1º Ciclo do Ensino Básico



QUESTIONÁRIO (escrito)

2598

A PREENCHER PELO PARTICIPANTE (EM MAIÚSCULAS)

Estabelecimento de Ensino: _____

Nome do Aluno: _____

Ano de escolaridade: _____º


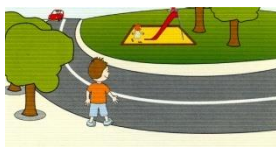
Turma: _____

N.º _____

Data de nascimento: ____/____/____

Data de realização do questionário: 201_/_/_

ATENÇÃO: Para cada afirmação/pergunta, apenas existe uma opção de resposta verdadeira. Faz uma circunferência (O) em torno dessa mesma resposta.

Número das questões	Questões	Penalizações parciais (20 pontos por cada resposta errada)
1	No fim de uma viagem, os passageiros de automóveis devem libertar-se imediatamente do cinto de segurança, mesmo quando os veículos ainda estão em andamento. A – Verdadeiro B – Falso	
2	Dois ciclistas podem circular a par. A – Verdadeiro B – Falso	
3	Se circulars de bicicleta à noite, para veres e seres visto pelos outros utentes, deves ligar a luz da frente que é vermelha e a de trás que é branca. A – Verdadeiro B – Falso	
4	O ciclista deve: A – Avançar antes do automóvel porque este se encontra a sair de uma garagem. B – Avançar depois do automóvel porque se trata de um veículo a motor.	
5	O Miguel pretende brincar no jardim. Achas que se encontra no local mais seguro para atravessar? A - Não, porque não deve passar a estrada numa curva. B - Sim, porque assim está a uma menor distância do jardim.	
Total de Penalizações		



Projeto de Complemento do Currículo
Plano Regional de Educação Rodoviária (PRER) 2016/2017

Projeto E - Taça Escolar de Educação Rodoviária – Fase Concelhia - 10ª Edição

Categoria A – 1º Ciclo do Ensino Básico



QUESTIONÁRIO (escrito)

2612

A PREENCHER PELO PARTICIPANTE (EM MAIÚSCULAS)




Estabelecimento de Ensino: _____

Nome do Aluno: _____

Ano de escolaridade: _____º Turma: _____ N.º _____

Data de nascimento: ____/____/____ Data de realização do questionário: 201_/_/____

ATENÇÃO: Para cada afirmação/pergunta, apenas existe uma opção de resposta verdadeira. Faz uma circunferência (O) em torno dessa mesma resposta.

Número das questões	Questões	Penalizações parciais (20 pontos por cada resposta errada)
1	<p>Que significa a sinalização que o ciclista está a realizar?</p> <p>A) Vai virar à direita; B) Vai virar à direita e parar; C) Vai abrandar; D) Vai virar à esquerda.</p> 	
2	<p>O que significa o seguinte sinal de trânsito?</p> <p>A) Existe uma passagem para peões. B) Existe uma escola nas proximidades. C) Proibido a passagem de peões.</p> 	
3	<p>O ciclista A deve:</p> <p>A – Passar primeiro que os outros veículos. B – Deixar passar primeiro o automóvel e avançar antes do ciclista B.</p> 	
4	<p>No fim de uma viagem, os passageiros de automóveis devem libertar-se imediatamente do cinto de segurança, mesmo quando os veículos ainda estão em andamento.</p> <p>A – Verdadeiro B – Falso</p>	
5	<p>Dois ciclistas não podem circular a par.</p> <p>A – Verdadeiro B - Falso</p>	
Total de Penalizações		



Projeto de Complemento do Currículo
Plano Regional de Educação Rodoviária (PRER) 2016/2017

Projeto E - Taça Escolar de Educação Rodoviária – Fase Concelhia - 10ª Edição

Categoria A – 1º Ciclo do Ensino Básico



QUESTIONÁRIO (escrito)

2636

A PREENCHER PELO PARTICIPANTE (EM MAIÚSCULAS)


Estabelecimento de Ensino: _____

Nome do Aluno: _____

Ano de escolaridade: _____º Turma: _____ N.º _____

Data de nascimento: ____/____/____ de realização do questionário: 201_/_/___

ATENÇÃO: Para cada afirmação/pergunta, apenas existe uma opção de resposta verdadeira. Faz uma circunferência (O) em torno dessa mesma resposta.

Número das questões	Questões	Penalizações parciais (20 pontos por cada resposta errada)
1	<p>A que grupos pertencem os sinais de trânsito apresentados?</p> <p>A) Obrigação e perigo; B) Cedência e proibição; D) Informação e obrigação.</p> 	
2	<p>A pressa é inimiga da segurança. Qual das seguintes frases é verdadeira?</p> <p>A) Se estiveres atrasado para ir para a escola, corre e não te preocupes em atravessar nas passadeiras. B) A sinalização vertical para os peões não é importante, por isso não percas tempo em olhá-la. C) Mesmo que estejas com pressa para atravessar a rua, procura sempre uma passadeira.</p>	
3	<p>Os bebés, transportados em automóveis, estão mais seguros se forem ao colo de outra pessoa.</p> <p>A – Verdadeiro B – Falso</p>	
4	<p>Se circulareres de bicicleta à noite, para veres e seres visto pelos outros utentes, deves ligar a luz da frente que é vermelha e a de trás que é branca.</p> <p>A – Verdadeiro B – Falso</p>	
5	<p>Se tiveres 120 cm já não necessitas de usar “cadeirinha”.</p> <p>A- Verdadeiro B - Falso</p>	
Total de Penalizações		



Projeto de Complemento do Currículo
Plano Regional de Educação Rodoviária (PRER) 2016/2017

Projeto E - Taça Escolar de Educação Rodoviária – Fase Concelhia - 10ª Edição

Categoria A – 1º Ciclo do Ensino Básico



QUESTIONÁRIO (escrito)

2941

A PREENCHER PELO PARTICIPANTE (EM MAIÚSCULAS)





Estabelecimento de Ensino: _____

Nome do Aluno: _____

Ano de escolaridade: _____º Turma: _____ N.º _____

Data de nascimento: ____/____/____ Data de realização do questionário: 201_/_/___

ATENÇÃO: Para cada afirmação/pergunta, apenas existe uma opção de resposta verdadeira. Faz uma circunferência (O) em torno dessa mesma resposta.

Número das questões	Questões	Penalizações parciais (20 pontos por cada resposta errada)
1	<p>O que significa o seguinte sinal de trânsito?</p> <p>A) Existe uma passagem para peões. B) Existe uma escola nas proximidades. C) Proibido a passagem de peões.</p> 	
2	<p>A ciclista A deve:</p> <p>A) Parar e avançar depois dos outros condutores; B) Parar e avançar antes do ciclista B, mas depois do automóvel.</p> 	
3	<p>Dois ciclistas não podem circular a par. A – Verdadeiro B - Falso</p>	
4	<p>Se tiveres 120 cm já não necessitas de usar “cadeirinha”. A – Verdadeiro B - Falso</p>	
5	<p>A que grupos pertencem os sinais de trânsito apresentados?</p> <p>A) Obrigação e perigo; B) Cedência e proibição; D) Informação e obrigação.</p>  	
Total de Penalizações		



Projeto de Complemento do Currículo
Plano Regional de Educação Rodoviária (PRER) 2016/2017

Projeto E - Taça Escolar de Educação Rodoviária – Fase Concelhia - 10ª Edição

Categoria A – 1º Ciclo do Ensino Básico



QUESTIONÁRIO (escrito)

3233

A PREENCHER PELO PARTICIPANTE (EM MAIÚSCULAS)




Estabelecimento de Ensino: _____

Nome do Aluno: _____

Ano de escolaridade: _____º Turma: _____ N.º _____

Data de nascimento: ____/____/____ Data de realização do questionário: 201__/__/__

ATENÇÃO: Para cada afirmação/pergunta, apenas existe uma opção de resposta verdadeira. Faz uma circunferência (O) em torno dessa mesma resposta.

Número das questões	Questões	Penalizações parciais (20 pontos por cada resposta errada)
1	O que significa o sinal apresentado? A) Obrigatório ceder a passagem. B) Proibida a passagem a peões.	
2	Quando um condutor de automóvel ultrapassa um autocarro parado. A) Não existe nenhum perigo porque os peões veem bem os condutores. B) Tem de estar ainda mais atento, porque não vê se há passageiros a atravessar a rua pela sua frente. C) Desde que ultrapasse pelo lado esquerdo não põe ninguém em perigo.	
3	A que grupos pertencem os sinais de trânsito apresentados? A) Obrigação e perigo; B) Cedência e proibição; D) Informação e obrigação.	 
4	Quando o piso está molhado ou escorregadio, a distância que um veículo percorre até parar é maior do que se o piso estiver seco. A) Verdadeiro B) Falso	
5	A ciclista A deve: A) Parar e avançar depois dos outros condutores; B) Parar e avançar antes do ciclista B, mas depois do automóvel.	
Total de Penalizações		



Projeto de Complemento do Currículo
Plano Regional de Educação Rodoviária (PRER) 2016/2017

Projeto E - Taça Escolar de Educação Rodoviária – Fase Concelhia - 10ª Edição

Categoria A – 1º Ciclo do Ensino Básico



QUESTIONÁRIO (escrito)

3437

A PREENCHER PELO PARTICIPANTE (EM MAIÚSCULAS)






Estabelecimento de Ensino: _____

Nome do Aluno: _____

Ano de escolaridade: _____º Turma: _____ N.º _____

Data de nascimento: ____/____/____ Data de realização do questionário: 201_/_/____

ATENÇÃO: Para cada afirmação/pergunta, apenas existe uma opção de resposta verdadeira. Faz uma circunferência (O) em torno dessa mesma resposta.

Número das questões	Questões	Penalizações parciais (20 pontos por cada resposta errada)
1	O Tiago, que tem 8 anos e vai todos os dias de bicicleta para a escola. Para não se expor ao perigo dos veículos a motor, fá-lo sobre os passeios. Como classificas a opção do Tiago? A) Correta B) Incorreta	
2	Qual dos seguintes sinais indica sentido proibido? A)  B)  C) 	
3	Os peões devem transitar pela direita nos locais que lhes são destinados, ainda que transitem nas vias públicas em que esteja proibido o trânsito de veículos. A) Verdadeiro B) Falso	
4	Quando o piso está molhado ou escorregadio, a distância que um veículo percorre até parar é maior do que se o piso estiver seco. A) Verdadeiro B) Falso	
5	A que grupos pertencem os sinais de trânsito apresentados? A) Obrigação e perigo; B) Cedência e proibição; D) Informação e obrigação.  	
Total de Penalizações		



Projeto de Complemento do Currículo
Plano Regional de Educação Rodoviária (PRER) 2016/2017
Projeto E - **Taça Escolar de Educação Rodoviária – Fase Escolar - 10ª Edição**



Categoria A – 1º Ciclo do Ensino Básico

QUESTIONÁRIO (escrito)

3743

A PREENCHER PELO PARTICIPANTE (EM MAIÚSCULAS)




Estabelecimento de Ensino: _____

Nome do Aluno: _____

Ano de escolaridade: _____º Turma: _____ N.º _____

Data de nascimento: ____/____/____ Data de realização do questionário: 201__/__/__

ATENÇÃO: Para cada afirmação/pergunta, apenas existe uma opção de resposta verdadeira. Faz uma circunferência (O) em torno dessa mesma resposta.

Número das questões	Questões	Penalizações parciais (20 pontos por cada resposta errada)
1	O Tiago, que tem 8 anos, vai todos os dias de bicicleta para a escola. Para não se expor ao perigo dos veículos a motor, fá-lo sobre os passeios. Como classificas a opção do Tiago? A) Correta B) Incorreta	
2	Quando te deslocas a pé num túnel ou à noite, deves vestir roupas de cor clara para te tornares mais visível. A) Verdadeiro B) Falso	
3	O que significa o sinal apresentado? A) Obrigatório ceder a passagem. B) Proibida a passagem a peões.	
4	A que grupos pertencem os sinais de trânsito apresentados? A) Obrigação e perigo; B) Cedência e proibição; D) Informação e obrigação.	 
5	Quando o piso está molhado ou escorregadio, a distância que um veículo percorre até parar é maior do que se o piso estiver seco. A) Verdadeiro B) Falso	
Total de Penalizações		



Projeto de Complemento do Currículo
Plano Regional de Educação Rodoviária (PRER) 2016/2017

Projeto E - Taça Escolar de Educação Rodoviária – Fase Concelhia - 10ª Edição



Categoria A – 1º Ciclo do Ensino Básico

**QUESTIONÁRIO
(escrito)**

4059

A PREENCHER PELO PARTICIPANTE (EM MAIÚSCULAS)

Estabelecimento de Ensino: _____

Nome do Aluno: _____

Ano de escolaridade: _____º Turma: _____ N.º _____

Data de nascimento: ____/____/____ Data de realização do questionário: 201__/__/__

ATENÇÃO: Para cada afirmação/pergunta, apenas existe uma opção de resposta verdadeira. Faz uma circunferência (O) em torno dessa mesma resposta.

Número das questões	Questões	Penalizações parciais (20 pontos por cada resposta errada)
1	Entrar ou sair dos veículos sem que estes estejam completamente imobilizados é um comportamento aconselhado, já que se torna mais breve, perturbando menos a circulação rodoviária. A) Verdadeiro B) Falso	
2	Quando um condutor de automóvel ultrapassa um autocarro parado. A) Não existe nenhum perigo porque os peões veem bem os condutores. B) Tem de estar ainda mais atento, porque não vê se há passageiros a atravessar a rua pela sua frente. C) Desde que ultrapasse pelo lado esquerdo não põe ninguém em perigo.	
3	Como é que esta menina se deve comportar? A) Avançar, se não houver veículos a aproximar-se. B) Parar sempre, mesmo que não se aproximem veículos.	
4	Para conduzir um veículo a motor na via pública basta saber fazê-lo, não sendo necessário estar legalmente habilitado para o efeito. A) Verdadeiro B) Falso	
5	A que grupos pertencem os sinais de trânsito apresentados? A) Obrigação e perigo; B) Cedência e proibição; D) Informação e obrigação.	
Total de Penalizações		



Projeto de Complemento do Currículo
Plano Regional de Educação Rodoviária (PRER) 2016/2017

Projeto E - Taça Escolar de Educação Rodoviária – Fase Concelhia - 10ª Edição

Categoria A – 1º Ciclo do Ensino Básico



QUESTIONÁRIO (escrito)

4391

A PREENCHER PELO PARTICIPANTE (EM MAIÚSCULAS)



Estabelecimento de Ensino: _____

Nome do Aluno: _____

Ano de escolaridade: _____º Turma: _____ N.º _____

Data de nascimento: ____/____/____ Data de realização do questionário: 201__/__/__

ATENÇÃO: Para cada afirmação/pergunta, apenas existe uma opção de resposta verdadeira. Faz uma circunferência (O) em torno dessa mesma resposta.

Número das questões	Questões	Penalizações parciais (20 pontos por cada resposta errada)
1	Dois ciclistas podem circular a par. A – Verdadeiro B - Falso	
2	A ciclista A deve: A) Parar e avançar depois dos outros condutores; B) Parar e avançar antes do ciclista B, mas depois do automóvel.	
3	Onde devem circular os velocípedes? A) Faixa de rodagem B) Nos passeios C) Unicamente nas bermas	
4	Como é que esta menina se deve comportar? A) Avançar, se não houver veículos a aproximar-se. B) Parar sempre, mesmo que não se aproximem veículos.	
5	Quando o piso está molhado ou escorregadio, a distância que um veículo percorre até parar é maior do que se o piso estiver seco. A) Verdadeiro B) Falso	
Total de Penalizações		



Projeto de Complemento do Currículo
Plano Regional de Educação Rodoviária (PRER) 2016/2017

Projeto E - Taça Escolar de Educação Rodoviária – Fase Concelhia - 10ª Edição

Categoria A – 1º Ciclo do Ensino Básico



QUESTIONÁRIO (escrito)

4484

A PREENCHER PELO PARTICIPANTE (EM MAIÚSCULAS)

Estabelecimento de Ensino: _____

Nome do Aluno: _____

Ano de escolaridade: _____º Turma: _____ N.º _____

Data de nascimento: ____/____/____ Data de realização do questionário: 201__/__/__

ATENÇÃO: Para cada afirmação/pergunta, apenas existe uma opção de resposta verdadeira. Faz uma circunferência (O) em torno dessa mesma resposta.

Número das questões	Questões	Penalizações parciais (20 pontos por cada resposta errada)
1	Os bebés, transportados em automóveis, estão mais seguros se forem ao colo de outra pessoa. A) Verdadeiro B) Falso	
2	O que significa o sinal apresentado? A) Obrigatório ceder a passagem. B) Proibida a passagem a peões.	
3	O Tiago, que tem 8 anos e vai todos os dias de bicicleta para a escola. Para não se expor ao perigo dos veículos a motor, fá-lo sobre os passeios. Como classificas a opção do Tiago? A) Correta B) Incorreta	
4	A ciclista A deve: A) Parar e avançar depois dos outros condutores; B) Parar e avançar antes do ciclista B, mas depois do automóvel.	
5	A que grupos pertencem os sinais de trânsito apresentados? A) Obrigação e perigo; B) Cedência e proibição; D) Informação e obrigação.	
Total de Penalizações		



Projeto de Complemento do Currículo
Plano Regional de Educação Rodoviária (PRER) 2016/2017

Projeto E - Taça Escolar de Educação Rodoviária – Fase Concelhia - 10ª Edição

Categoria A – 1º Ciclo do Ensino Básico



QUESTIONÁRIO (escrito)

4695

A PREENCHER PELO PARTICIPANTE (EM MAIÚSCULAS)


Estabelecimento de Ensino: _____

Nome do Aluno: _____

Ano de escolaridade: _____º Turma: _____ N.º _____

Data de nascimento: ____/____/____ Data de realização do questionário: 201__/__/__

ATENÇÃO: Para cada afirmação/pergunta, apenas existe uma opção de resposta verdadeira. Faz uma circunferência (O) em torno dessa mesma resposta.

Número das questões	Questões	Penalizações parciais (20 pontos por cada resposta errada)
1	Quando o piso está molhado ou escorregadio, a distância que um veículo percorre até parar é maior do que se o piso estiver seco. A) Verdadeiro B) Falso	
2	Os bebés, transportados em automóveis, estão mais seguros se forem ao colo de outra pessoa. A) Verdadeiro B) Falso	
3	A ciclista A deve: A) Parar e avançar depois dos outros condutores; B) Parar e avançar antes do ciclista B, mas depois do automóvel.	
4	Entrar ou sair dos veículos sem que estes estejam completamente imobilizados é um comportamento aconselhado, já que se torna mais breve, perturbando menos a circulação rodoviária. A) Verdadeiro B) Falso	
5	Dois ciclistas podem circular a par. A – Verdadeiro B - Falso	
Total de Penalizações		



Projeto de Complemento do Currículo
Plano Regional de Educação Rodoviária (PRER) 2016/2017

Projeto E - Taça Escolar de Educação Rodoviária – Fase Concelhia - 10ª Edição

Categoria A – 1º Ciclo do Ensino Básico



QUESTIONÁRIO (escrito)

4895

A PREENCHER PELO PARTICIPANTE (EM MAIÚSCULAS)

Estabelecimento de Ensino: _____

Nome do Aluno: _____

Ano de escolaridade: _____º Turma: _____ N.º _____

Data de nascimento: ____/____/____ Data de realização do questionário: 201_/_/____

ATENÇÃO: Para cada afirmação/pergunta, apenas existe uma opção de resposta verdadeira. Faz uma circunferência (O) em torno dessa mesma resposta.

Número das questões	Questões	Penalizações parciais (20 pontos por cada resposta errada)
1	É aconselhado o uso do cinto de segurança mas por lei não é obrigatório. A – Verdadeiro B – Falso	
2	A que grupos pertencem os sinais de trânsito apresentados? A) Perigo e informação; B) Obrigação e Perigo; C) Cedência e proibição; D) Informação e obrigação.	
3	Como é que esta menina se deve comportar? A) Avançar, se não houver veículos a aproximar-se. B) Parar sempre, mesmo que não se aproximem veículos	
4	Entrar ou sair dos veículos sem que estes estejam completamente imobilizados é um comportamento aconselhado, já que se torna mais breve, perturbando menos a circulação rodoviária. A) Verdadeiro B) Falso	
5	O que significa o sinal apresentado? A) Obrigatório ceder a passagem. B) Proibida a passagem a peões.	
Total de Penalizações		



Projeto de Complemento do Currículo
Plano Regional de Educação Rodoviária (PRER) 2016/2017

Projeto E - Taça Escolar de Educação Rodoviária – Fase Concelhia - 10ª Edição

Categoria A – 1º Ciclo do Ensino Básico



QUESTIONÁRIO (escrito)

4955

A PREENCHER PELO PARTICIPANTE (EM MAIÚSCULAS)





Estabelecimento de Ensino: _____

Nome do Aluno: _____

Ano de escolaridade: _____º Turma: _____ N.º _____

Data de nascimento: ____/____/____ Data de realização do questionário: 201__/__/__

ATENÇÃO: Para cada afirmação/pergunta, apenas existe uma opção de resposta verdadeira. Faz uma circunferência (O) em torno dessa mesma resposta.

Número das questões	Questões	Penalizações parciais (20 pontos por cada resposta errada)
1	O Tiago, que tem 8 anos e vai todos os dias de bicicleta para a escola. Para não se expor ao perigo dos veículos a motor, fá-lo sobre os passeios. Como classificas a opção do Tiago? A) Correta B) Incorreta	
2	Que significa a sinalização que o ciclista está a realizar? A) Vai virar à direita; B) Vai virar à esquerda.	
3	Como é que esta menina se deve comportar? A) Avançar, se não houver veículos a aproximar-se. B) Parar sempre, mesmo que não se aproximem veículos.	
4	O que significa o sinal apresentado? A) Obrigatório ceder a passagem. B) Proibida a passagem a peões.	
5	A ciclista A deve: A) Parar e avançar depois dos outros condutores; B) Parar e avançar antes do ciclista B, mas depois do automóvel.	
Total de Penalizações		



Projeto de Complemento do Currículo
Plano Regional de Educação Rodoviária (PRER) 2016/2017

Projeto E - Taça Escolar de Educação Rodoviária – Fase Concelhia - 10ª Edição

Categoria A – 1º Ciclo do Ensino Básico



QUESTIONÁRIO (escrito)

5420

A PREENCHER PELO PARTICIPANTE (EM MAIÚSCULAS)




Estabelecimento de Ensino: _____

Nome do Aluno: _____

Ano de escolaridade: _____º Turma: _____ N.º _____

Data de nascimento: ____/____/____ Data de realização do questionário: 201_/_/____

ATENÇÃO: Para cada afirmação/pergunta, apenas existe uma opção de resposta verdadeira. Faz uma circunferência (O) em torno dessa mesma resposta.

Número das questões	Questões	Penalizações parciais (20 pontos por cada resposta errada)
1	<p>Que significa a sinalização que o ciclista está a realizar?</p> <p>A) Vai virar à direita; B) Vai virar à esquerda.</p> 	
2	 <p>Dos sinais apresentados algum pertence ao grupo dos sinais de perigo?</p> <p>A – Sim B – Não</p>	
3	<p>Quem anda de bicicleta, até aos dez anos pode circular nos passeios.</p> <p>A – Verdadeiro B – Falso</p>	
4	<p>Para conduzir um veículo a motor na via pública basta saber fazê-lo, não sendo necessário estar legalmente habilitado para o efeito.</p> <p>A) Verdadeiro B) Falso</p>	
5	<p>A que grupos pertencem os sinais de trânsito apresentados?</p> <p>A) Perigo e informação; B) Obrigação e Perigo; C) Cedência e proibição; D) Informação e obrigação.</p> 	
Total de Penalizações		



Projeto de Complemento do Currículo
Plano Regional de Educação Rodoviária (PRER) 2016/2017
Projeto E - Taça Escolar de Educação Rodoviária – Final Escolar - 10ª Edição



Categoria A – 1º Ciclo do Ensino Básico

QUESTIONÁRIO (escrito)

5651

A PREENCHER PELO PARTICIPANTE (EM MAIÚSCULAS)

Estabelecimento de Ensino: _____

Nome do Aluno: _____

Ano de escolaridade: _____º Turma: _____ N.º _____

Data de nascimento: ____/____/____ Data de realização do questionário: 201__/__/__

ATENÇÃO: Para cada afirmação/pergunta, apenas existe uma opção de resposta verdadeira. Faz uma circunferência (O) em torno dessa mesma resposta.

Número das questões	Questões	Penalizações parciais (20 pontos por cada resposta errada)
1	Quem anda de bicicleta, até aos dez anos pode circular nos passeios. A – Verdadeiro B – Falso	
2	O ciclista A deve: A) Passar antes dos outros dois veículos. B) Passar depois dos outros dois veículos. C) Passar depois do automóvel e antes do ciclista B.	
3	 Dos sinais apresentados algum pertence ao grupo dos sinais de perigo? A – Sim B – Não	
4	Em caso de um acidente rodoviário com um motociclo, devemos de imediato socorrer a vítima e retirar-lhe o capacete o mais rápido possível. A – Verdadeiro B – Falso	
5	Dois ciclistas podem circular a par. A – Verdadeiro B - Falso	
Total de Penalizações		



Projeto de Complemento do Currículo
Plano Regional de Educação Rodoviária (PRER) 2016/2017

Projeto E - Taça Escolar de Educação Rodoviária – Fase Concelhia – 10ª Edição

Categoria A – 1º Ciclo do Ensino Básico



QUESTIONÁRIO (escrito)

5725

A PREENCHER PELO PARTICIPANTE (EM MAIÚSCULAS)




Estabelecimento de Ensino: _____

Nome do Aluno: _____

Ano de escolaridade: _____º Turma: _____ N.º _____

Data de nascimento: ____/____/____ Data de realização do questionário: 201_/_/____

ATENÇÃO: Para cada afirmação/pergunta, apenas existe uma opção de resposta verdadeira. Faz uma circunferência (O) em torno dessa mesma resposta.

Número das questões	Questões	Penalizações parciais (20 pontos por cada resposta errada)
1	<p>O ciclista comporta-se corretamente?</p> <p>A) Sim, porque pode virar à esquerda. B) Não, porque naquele local não se pode virar à esquerda. C) Não, porque naquele local só se pode ir em frente.</p> 	
2	<p>É proibido entrar, sair ou abrir as portas dos veículos sem que estes estejam completamente imobilizados.</p> <p>A – Verdadeiro B – Falso</p>	
3	 <p>Dos sinais apresentados algum pertence ao grupo dos sinais de perigo?</p> <p>A – Sim B – Não</p>	
4	<p>Como ciclista posso transitar na via rápida desde que leve capacete.</p> <p>A – Verdadeiro B – Falso</p>	
5	<p>A que grupos pertencem os sinais de trânsito apresentados?</p> <p>A) Perigo e informação; B) Obrigação e Perigo; C) Cedência e proibição; D) Informação e obrigação</p> 	
Total de Penalizações		



Projeto de Complemento do Currículo
Plano Regional de Educação Rodoviária (PRER) 2016/2017

Projeto E - Taça Escolar de Educação Rodoviária – Fase Concelhia – 10ª Edição

Categoria A – 1º Ciclo do Ensino Básico



QUESTIONÁRIO (escrito)

6015

A PREENCHER PELO PARTICIPANTE (EM MAIÚSCULAS)



Estabelecimento de Ensino: _____

Nome do Aluno: _____

Ano de escolaridade: _____º Turma: _____ N.º _____

Data de nascimento: ____/____/____ Data de realização do questionário: 201__/__/__

ATENÇÃO: Para cada afirmação/pergunta, apenas existe uma opção de resposta verdadeira. Faz uma circunferência (O) em torno dessa mesma resposta.

Número das questões	Questões	Penalizações parciais (20 pontos por cada resposta errada)
1	<p>O peão da imagem está a caminhar no sítio adequado?</p> <p>A - Sim, pois encontra-se numa pista obrigatória para peões e velocípedes</p> <p>B - Não, porque está numa pista destinada apenas a ciclistas</p> 	
2	<p>Em Portugal, as crianças até 1,35m e menos de 12 anos de idade têm de sentar-se num sistema de retenção adequado ao seu tamanho e peso.</p> <p>A – Verdadeiro B – Falso</p>	
3	 <p>Dos sinais apresentados algum pertence ao grupo dos sinais de perigo?</p> <p>A – Sim B – Não</p>	
4	<p>Quando te deslocas a pé num túnel ou à noite, deves vestir roupas de cor clara para te tornares mais visível.</p> <p>A) Verdadeiro B) Falso</p>	
5	<p>Quem anda de bicicleta, até aos dez anos pode circular nos passeios.</p> <p>A – Verdadeiro B – Falso</p>	
Total de Penalizações		



Projeto de Complemento do Currículo
Plano Regional de Educação Rodoviária (PRER) 2016/2017

Projeto E - Taça Escolar de Educação Rodoviária – Fase Concelhia – 10ª Edição

Categoria B – 2º Ciclo do Ensino Básico



QUESTIONÁRIO (escrito)

6156

A PREENCHER PELO PARTICIPANTE (EM MAIÚSCULAS)

Estabelecimento de Ensino: _____

Nome do Aluno: _____

Ano de escolaridade: _____º






Turma: _____

N.º _____

Data de nascimento: ____/____/____

Data de realização do questionário: 201__/__/__

ATENÇÃO: Para cada afirmação/pergunta, apenas existe uma opção de resposta verdadeira. Faz uma circunferência (O) em torno dessa mesma resposta.

Número das questões	Questões	Penalizações parciais (20 pontos por cada resposta errada)
1	Qual dos seguintes sinais indica sentido proibido?  B)  B)  C) 	
2	Como ciclista posso transitar na via rápida desde que leve capacete. A – Verdadeiro B – Falso	
3	A ciclista A deve: A) Parar e avançar depois dos outros condutores; B) Parar e avançar antes do ciclista B, mas depois do automóvel. 	
4	Na sinalização luminosa, os sinais para os condutores são: A – Tricolores: Vermelho, amarelo e verde. B – Bicolores: Vermelho e verde. C – Tricolores: Vermelho, azul e verde. D – Bicolores: Vermelho e amarelo.	
5	Dois ciclistas podem circular a par. A – Verdadeiro B - Falso	
Total de Penalizações		



Projeto de Complemento do Currículo
Plano Regional de Educação Rodoviária (PRER) 2016/2017

Projeto E - Taça Escolar de Educação Rodoviária – Fase Concelhia - 10ª Edição

Categoria A – 1º Ciclo do Ensino Básico



QUESTIONÁRIO (escrito)

6344

A PREENCHER PELO PARTICIPANTE (EM MAIÚSCULAS)


Estabelecimento de Ensino: _____

Nome do Aluno: _____

Ano de escolaridade: _____º Turma: _____ N.º _____

Data de nascimento: ____/____/____ Data de realização do questionário: 201__/__/__

ATENÇÃO: Para cada afirmação/pergunta, apenas existe uma opção de resposta verdadeira. Faz uma circunferência (O) em torno dessa mesma resposta.

Número das questões	Questões	Penalizações parciais (20 pontos por cada resposta errada)
1	O que significa o seguinte sinal de trânsito? A) Existe uma passagem para peões. B) Existe uma escola nas proximidades. C) Proibido a passagem de peões.	
2	Dois ciclistas podem circular a par. A – Verdadeiro B - Falso	
3	O peão da imagem está a caminhar no sítio adequado? A - Sim, pois encontra-se numa pista obrigatória para peões e velocípedes B - Não, porque está numa pista destinada apenas a ciclistas	
4	É aconselhado o uso do cinto de segurança mas por lei não é obrigatório. A – Verdadeiro B – Falso	
5	 Dos sinais apresentados algum pertence ao grupo dos sinais de perigo? A – Sim B – Não	
Total de Penalizações		